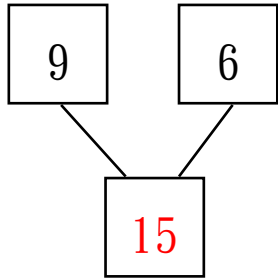


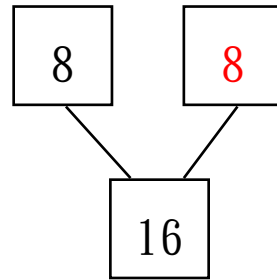
三水同鄉會禰景榮學校  
 2019-20 年度 第二學習階段  
 一年級數學科 鞏固工作紙  
 (18 以內的組合、加法和減法)

姓名：\_\_\_\_\_ ( ) 班別：1\_\_\_\_\_ 日期：\_\_\_\_\_ **答案** \_\_\_\_\_

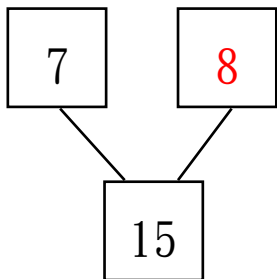
1) (a)



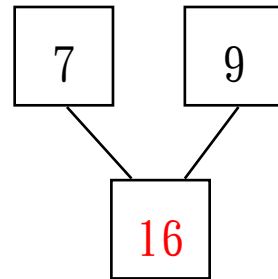
(b)



(c)




(d)



2) (a)  $9 + 9 = \underline{18}$


(b)  $9 + \underline{8} = 17$

3)



用橫式記錄：  $\underline{6} + \underline{7} = \underline{13}$

4)



用橫式記錄：  $\underline{14} - \underline{6} = \underline{8}$

5) 以下哪個是 17 的組合？

- A. 6 和 9      ○B. 7 和 9      ●C. 8 和 9      ○D. 9 和 9

6) 以下哪個不是 15 的組合？

- A. 7 和 8      ●B. 7 和 9      ○C. 8 和 7      ○D. 9 和 6

7) 姐姐有 9 張郵票 ，妹妹有 3 張郵票 。

她們共有郵票 12 張。

8) 媽媽吃了 6 塊檸檬餅，後來媽媽再吃了 7 塊椰子餅。

媽媽共吃了餅乾 13 塊。

9) 哥哥原有模型 8 盒，爸爸再送給哥哥 3 盒，  
哥哥現有模型多少盒？（列式計算）

$$\begin{array}{r} \underline{8 + 3} \\ = \underline{11} \end{array}$$

∴ 哥哥現有模型 11 ( 盒 )。

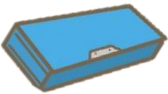
10) 李老師和甘老師各有禮物 7 份，她們共有禮物多少份？  
（列式計算）

$$\begin{array}{r} \underline{7 + 7} \\ = \underline{14} \end{array}$$

∴ 她們共有禮物 14 ( 份 )。

11) (a)  $13 - 5 = \underline{8}$

(b)  $15 - 9 = \underline{6}$

12) 書局裏有 16 個筆盒 ，售出了 7 個。

書局裏餘下筆盒 9 個。

13) 刁老師有禮物 11 份，送了 4 份給同學後，  
剩下禮物 7 份。

14) 媽媽買了一打雞蛋，打破了 8 隻，餘下雞蛋 4 隻。

15) 哥哥有 14 元，妹妹比哥哥少 9 元，妹妹有 5 元。

16) 水果店有橙 5 個，有蘋果 11 個，橙和蘋果相差多少個？  
(列式計算)

$$\underline{11 - 5}$$
$$= \underline{6}$$

∴橙和蘋果相差 6 ( 個 )。

17) 小丑有紅色氣球 6 個，藍色氣球 13 個，  
藍色氣球比紅色氣球多幾個？(列式計算)

$$\underline{13 - 6}$$
$$= \underline{7}$$

∴藍色氣球比紅色氣球多 7 ( 個 )。