

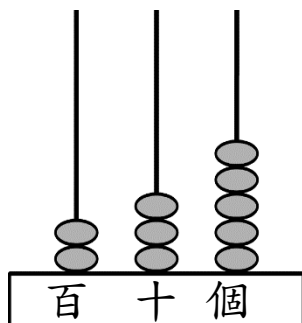
三水同鄉會禰景榮學校

2019-20 年度 第二學習階段

二年級數學科 鞏固工作紙 (三位數、加法和減法)

姓名：\_\_\_\_\_ ( ) 班別：2\_\_\_\_\_ 日期：\_\_\_\_\_ **答案** \_\_\_\_\_

1)



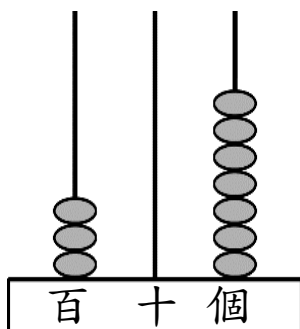
「2」在百位，代表 200。

「3」在十位，代表 30。

「5」在個位，代表 5。

寫作： 235 讀作： 二百三十五

2)



「3」在 百 位，代表 300。

「0」在 十 位，代表 0。

寫作： 307 讀作： 三百零七

3)

下面是最近三天售出小說的數量，把售出小說的數量由少至多排列出來。

星期	二	三	四
數量 (本)	727	827	801

答案： 727 (最少) ， 801 ， 827 (最多)

4)



用上面其中三張數卡組成一個最大的三位單數： 945

5)

每個樽有 50 塊餅乾，6 個樽共有 300 塊餅乾。



$$\begin{array}{r}
 6) \quad (a) \quad \begin{array}{r} 2 \quad 2 \quad 1 \\ + \quad 4 \quad 9 \\ \hline \end{array} \\
 \boxed{2 \quad 7 \quad 0}
 \end{array}$$

$$\begin{array}{r}
 (b) \quad \begin{array}{r} 5 \quad 7 \quad 6 \\ + \quad 2 \quad 2 \quad 9 \\ \hline \end{array} \\
 \boxed{8 \quad 0 \quad 5}
 \end{array}$$

$$\begin{array}{r}
 (c) \quad \begin{array}{r} 5 \quad 4 \quad 1 \\ + \quad 2 \quad 3 \quad 2 \\ \hline \end{array} \\
 \boxed{7 \quad 7 \quad 3} \\
 + \quad \begin{array}{r} 1 \quad 0 \quad 8 \\ \hline \end{array} \\
 \boxed{8 \quad 8 \quad 1}
 \end{array}$$

$$\begin{array}{r}
 (d) \quad \begin{array}{r} 2 \quad 7 \quad 5 \\ + \quad 1 \quad 4 \quad 7 \\ \hline \end{array} \\
 \boxed{4 \quad 2 \quad 2} \\
 + \quad \begin{array}{r} 3 \quad 9 \quad 9 \\ \hline \end{array} \\
 \boxed{8 \quad 2 \quad 1}
 \end{array}$$

$$\begin{array}{r}
 (e) \quad \begin{array}{r} 8 \quad 0 \\ - \quad 5 \quad 5 \\ \hline \end{array} \\
 \boxed{2 \quad 5}
 \end{array}$$

$$\begin{array}{r}
 (f) \quad \begin{array}{r} 6 \quad 5 \\ - \quad 1 \quad 8 \\ \hline \end{array} \\
 \boxed{4 \quad 7}
 \end{array}$$





$$\begin{array}{r}
 (g) \quad \begin{array}{r} 9 \quad 2 \\ - \quad 5 \quad 7 \\ \hline \end{array} \\
 \boxed{3 \quad 5} \\
 - \quad \begin{array}{r} 2 \quad 4 \\ \hline \end{array} \\
 \boxed{1 \quad 1}
 \end{array}$$

$$\begin{array}{r}
 (h) \quad \begin{array}{r} 9 \quad 6 \\ - \quad 1 \quad 9 \\ \hline \end{array} \\
 \boxed{7 \quad 7} \\
 - \quad \begin{array}{r} 1 \quad 8 \\ \hline \end{array} \\
 \boxed{5 \quad 9}
 \end{array}$$

7) 有 229 對羽毛球鞋，籃球鞋比羽毛球鞋多 147 對，足球鞋又比籃球鞋多 265 對，足球鞋有 641 對。

8) 鋼琴班原有 47 個學生，今天只有 35 個學生上課，今天缺席學生 12 個。

9)

			
雪梨 243 個	蘋果 386 個	芒果 ? 個	檸檬 39 個

芒果比蘋果多售出 279 個，水果店今天售出芒果多少個？  
(列式計算)

\_\_\_ 水果店今天售出芒果 \_\_\_ :

\_\_\_  $386+279$  \_\_\_

= \_\_\_ 665 \_\_\_ ( 個 )

386
<u>+279</u>
665

10) 繪畫班的材料費是 58 元，文軒付 70 元，應找回多少元？  
(列式計算)

\_\_\_ 應找回 \_\_\_ :

\_\_\_  $70-58$  \_\_\_

= \_\_\_ 12 \_\_\_ ( 元 )

70
<u>-58</u>
12

11) 動物園裏有 63 隻猴子，猴子比鴨子多 29 隻，  
鴨子又比綿羊多 18 隻，綿羊有多少隻？(列式計算)

\_\_\_ 綿羊有 \_\_\_ :

\_\_\_  $63-29-18$  \_\_\_

= \_\_\_ 16 \_\_\_ ( 隻 )

63
<u>-29</u>
34
<u>-18</u>
16

12) 媽媽買了一對售 342 元的羽毛球鞋給哥哥和一對售 399 元的足球鞋給弟弟，還剩下 159 元。媽媽原有多少元？(列式計算)

\_\_\_ 媽媽原有 \_\_\_ :

\_\_\_  $342+399+159$  \_\_\_

= \_\_\_ 900 \_\_\_ ( 元 )

342
<u>+399</u>
741
<u>+159</u>
900