



三水同鄉會禰景榮學校

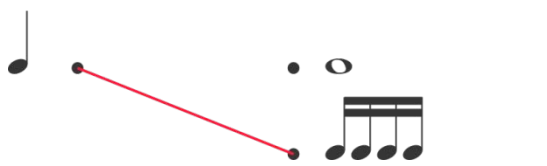
音樂科四年級工作紙(1)\_ 教師版


姓名：\_\_\_\_\_ ( ) 班別：\_\_\_\_\_ 分數：\_\_\_\_\_/20

1. 把相同時值的節奏連起來。(6分)


(1) 

(2) 


(3) 

2. 在五線譜適當的位置加上 ，以顯示以下和聲音程。(4分)

(1)   
四度

(2)   
六度

3. 在( )內寫上音名。(6分)

  
(D') (B) (A) (G) (D)(E)  
或  
D

4. 創作三拍子節奏，當中須包含切分節奏。(4分)

(自由創作，以下答案僅供參考)

